







Prefeitura Municipal da
Est. Religiosa de Aparecida

Nome do _____

Inscrição _____

Caderno de Prova

 14 de fevereiro de 2016
 Das 09h às 12h
 3h de duração
 40 questões

Cargo: Fiscal Ambulante

INSTRUÇÕES

- Só abra este caderno quando o fiscal autorizar.
- Verifique se este caderno contém 40 questões, numeradas de 1 a 40. Caso contrário, solicite ao fiscal da sala um outro caderno.
- Para cada questão existe apenas UMA resposta certa.
- Transcreva, **com tinta azul ou preta**, as alternativas escolhidas para a GABARITO OFICIAL, sem cometer rasuras. Não deixe nenhuma em branco.
- Não será possível a substituição do Gabarito Oficial.
- Não será permitida qualquer espécie de consulta.
- Não haverá tempo adicional para transcrição de respostas ao gabarito oficial.
- Terminada a prova entregue o gabarito oficial, a folha da prova dissertativa e o caderno de questões ao fiscal. Poderá ser levado **somente** o gabarito provisório de respostas.

  
Certo Errado Errado

Gabarito provisório

1.	6.	11.	16.	21.	26.	31.	36.
2.	7.	12.	17.	22.	27.	32.	37.
3.	8.	13.	18.	23.	28.	33.	38.
4.	9.	14.	19.	24.	29.	34.	39.
5.	10.	15.	20.	25.	30.	35.	40.



AGIRH – Assessoria e Gestão Integrada
em Recursos Humanos S/C Ltda
Email: contato@agirh.org
http://www.agirh.org

Língua Portuguesa

Leia atentamente a canção a seguir, de Luiz Gonzaga e Humberto Teixeira, para responder às questões de **1 a 3**.

Asa branca

Quando "oiei" a terra ardendo
Qual fogueira de São João
Eu perguntei a Deus do céu, uai
Por que tamanha judiação (bis)

Que braseiro, que "fornaia"
Nem um pé de "prantação"
Por "farta" d'água perdi meu gado
Morreu de sede meu alazão (bis)

Até mesmo a asa branca
Bateu asas do sertão
Então eu disse adeus Rosinha
Guarda contigo meu coração (bis)

Hoje longe muitas léguas
Numa triste solidão
Espero a chuva cair de novo
Para eu voltar pro meu sertão (bis)

Quando o verde dos teus "óio"
Se espalhar na prantação

Eu te asseguro não chore não, viu
Que eu voltarei, viu, meu coração

01. Leia atentamente as afirmações a seguir:

I – O principal objetivo da canção é relatar a solidão de um homem que abandonou sua mulher.

II – A canção apresenta propositais desvios em relação à norma culta da língua, com a finalidade de indicar a variação da linguagem regionalista.

III – No primeiro e segundo versos, os autores estabelecem uma relação de comparação entre a terra e a fogueira de São João.

IV – A palavra “verde”, presente no verso 17, é ambígua, pois representa, ao mesmo tempo, a cor dos olhos da amada e o verde da vegetação com o retorno das chuvas.

São corretas as afirmativas:

- a) II e III.
- b) I e III.
- c) II, III e IV.
- d) I e IV.

02. A figura de linguagem presente no verso: “Guarda contigo meu coração” é:

- a) Anáfora.
- b) Metáfora.
- c) Paradoxo.
- d) Prosopopeia.

03. No último verso da canção, o personagem-narrador faz uso do tempo verbal futuro do

presente, raramente utilizado nas falas populares. Sua intenção é:

- A) Enfatizar seu empenho e compromisso em retonar para a amada.
- b) Demonstrar que buscará estudos na cidade grande.
- c) Indicar que a distância em relação à mulher o tornou uma pessoa fria.
- d) Demonstrar que não acredita nessa possibilidade.

Leia atentamente a tirinha da garotinha Mafalda para responder às questões **4 e 5**:



04. Leia as afirmativas a seguir:

I – Ao longo da tirinha, Mafalda muda sua expressão, de entusiasmo para revolta.

II – O pronome “lá”, presente no segundo quadrinho, refere-se à “escola”.

III – Se, no segundo quadrinho, o termo “a gente” fosse substituído por “eles”, o verbo “tem” ficaria “têm”.

São corretas as afirmativas:

- a) II e III.
 - b) I e II.
 - c) Apenas III.
 - d) I e III.
-

05. Ao utilizar a palavra “burocratas”, Mafalda quis indicar:

- a) A destreza no processo de aprendizado.
 - b) A demora no processo de aprendizado.
 - c) A completude no processo de aprendizado.
 - d) A incompletude do processo de aprendizado.
-

06. Indique as classes gramaticais dos termos sublinhados:

- I. A beleza natural do Brasil é reconhecida no exterior.
- II. O convidado tomou sozinho meio galão de vinho.
- III. Idosos já são 10% no país.
- IV. Alex já comeu o bastante.
- V. Atualmente, ele anda meio triste.

- a) substantivo, numeral, preposição, advérbio, adjetivo.
 - b) adjetivo, substantivo, advérbio, substantivo, advérbio.
 - c) adjetivo, substantivo, preposição, pronome, adjetivo.
 - d) substantivo, numeral, advérbio, substantivo, advérbio.
-

07. A única sentença que permite a transposição para a voz passiva é:

- a) As regras de trânsito regulam o tráfego de veículos.
 - b) São inúmeras as vantagens de estudar inglês.
 - c) Cresceu o número de funcionários da empresa.
 - d) O delegado deixou de ser titular do cargo.
-

08. Assinale a alternativa em que todos os vocábulos devem ser obrigatoriamente acentuados:

- a) secretaria, ambar, ion.
 - b) bau, Peru, tunel.
 - c) patetico, açai, sai.
 - d) saude, triceps, chapeu.
-

09. Assinale a alternativa em que a oração subordinada é da mesma classificação que a existente em “Esqueci que hoje é feriado”.

- a) É sabido que os bebês precisam de muitas horas de sono.
 - b) Dona Ana não gosta que a chamem de senhora.
 - c) Eu não sei por que ela reagiu assim.
 - d) Nossa esperança era que ele mudasse.
-

10. A frase escrita corretamente, segundo o padrão de norma culta da língua portuguesa, é:

- a) Os itens que não podem faltar entre as ferramentas dos carpinteiros são: machado e enchada.
- b) Entre janeiro e março, a região Sul do Brasil enfrenta épocas de chuva intensa, o que ocasiona enchentes e enchurradas.

c) Para fazer belos penteados, os cabeleireiros aconselham: ao lavar, enxágue bem os cabelos; ao secar, separe os fios em mechas e mexa a escova em movimentos circulares.

d) Os moradores do edifício Aurora reclamam do vizinho do apartamento 23, pois ele é bastante xereta e chaveca as adolescentes do prédio.

Matemática

11. Quantos números de três algarismos (sem repeti-los num mesmo número) podemos formar com os algarismos 1, 4 e 6?

- a) 3.
- b) 6.
- c) 27.
- d) 11.

12. Observe a sequência: 51 – 55 – – – – 71 – 75. Os números corretamente a sequência são:

- a) 58 – 63 – 67.
- b) 60 – 63 – 66.
- c) 59 – 63 – 67.
- d) 56 – 63 – 70.

13. Márcia escreveu durante uma atividade um número formado por 96 unidades de milhar e 42 unidades. O número escrito por Márcia foi:

- a) 9642.
- b) 96402.
- c) 96042.
- d) 960042.

14. Num anfiteatro as cadeiras estão dispostas em 30 linhas e 16 colunas. Qual é o número total de cadeiras?

- a) 46.
- b) 480.
- c) 481.
- d) 482.

15. Em um estacionamento, os carros ficam em disposição retangular com 14 linhas e 15 colunas. No momento em que houver 99 carros estacionados, ainda haverá vagas para quantos?

- a) 70.
- b) 111.
- c) 128.
- d) 309.

16. Gabriel comprou 4 camisetas de R\$12,50 reais cada uma e uma calça de R\$25,50 reais. Deu 3 notas de 20 reais e 2 notas de 10 reais. Quanto recebeu de troco?

- a) 4 reais.
- b) 4 reais e cinquenta centavos.
- c) 3 reais.
- d) 3 reais e cinquenta centavos.

17. Uma geladeira de R\$789,00 reais vendida da seguinte forma: uma entrada de R\$68,00 reais e o restante em sete prestações iguais. Qual é o valor de cada prestação?

- a) R\$ 857,00.
- b) R\$ 476,00.
- c) R\$103,00.
- d) R\$102,00.

18. Foram repartidas 96 balas entre três crianças. Brenda e Joana receberam a mesma quantidade iguais e Laura 6 balas a mais que Brenda. Quantas balas recebeu cada criança?

- a) Brenda 45, Joana 45 e Laura 6.
- b) Brenda 35, Joana 35 e Laura 16.
- c) Brenda 40, Joana 40 e Laura 16.
- d) Brenda 30, Joana 30 e Laura 36.

19. Henrique tinha uma quantia no banco, na quarta-feira retirou R\$96,00 reais e na quinta-feira fez um depósito de R\$36,00 reais. Com isso, ficou com saldo de R\$400,00 reais. Quanto ele tinha no início?

- a) R\$268,00.
- b) R\$460,00.
- c) R\$340,00.
- d) R\$532,00.

20. O pai de José tem 35 anos a mais do que ele, e a soma das idades é 53 anos. A idade de José é:

- a) 18 anos.
- b) 9 anos.
- c) 88 anos.
- d) 10 anos.

Conhecimentos Gerais e Locais

21. O Prefeito do Município de Aparecida recebeu, por escrito, uma denúncia, constando o endereço e a identificação do denunciante, relatando indisciplina e insubordinação grave reiterada de um servidor que presta serviços em uma escola do Município como professor. Sendo o Prefeito uma autoridade, qual a providência a ser tomada mediante o previsto na Lei Orgânica do Município de Aparecida?

- a) Demitir imediatamente o servidor por ele ter uma infração considerada grave no que se refere à insubordinação.
- b) Promover apuração imediata, mediante sindicância ou processo administrativo.
- c) Convocar o servidor, para pedir desculpas ao denunciante.
- d) Convocar o secretário de Educação, que é o responsável pelas escolas para levantar a denuncia.

22. Conforme a Lei Orgânica do Município de Aparecida, compete promover a tudo quanto diga respeito ao seu peculiar interesse e ao bem estar de sua população, cabendo –lhe privativamente, dentre outras, as seguintes atribuições:

- I. Fiscalizar, nos locais de venda, peso, medidas, e condições sanitárias dos gêneros alimentícios.
 - II. Regulamentar o trânsito e o tráfego, disciplinando os serviços de carga e descarga, fixando a tonelagem máxima permitida a veículos que circulem em vias municipais;
 - III- Sinalizar as vias urbanas e as estradas municipais;
 - IV- Elaborar o Plano Plurianual, as Diretrizes Orçamentárias e o Orçamento Anual
- Quais estão corretas?

- a) Apenas I.
- b) Apenas III.
- c) Apenas I, II e III
- d) I, II, III e IV

23. Sobre as afirmações sobre o *Aedes Aegypti*:

- I- É um mosquito de apenas 0,5 cm de comprimento
- II- Vive menos de 45 dias

- III- Nunca se afasta mais de 100 metros de onde nasceu
 - IV- É um dos insetos mais perigosos do mundo porque transmite três doenças graves
- Estão corretas:

- a) I e II
- b) II e III
- c) II e IV
- d) I, II, III e IV

24. País mais populoso da África e o maior produtor de petróleo do Continente Africano. As exportações petrolíferas respondem por 90% das vendas externas:

- a) Líbia
- b) Marrocos
- c) Nigéria
- d) Tanzânia

25. O Zika foi detectado pela primeira vez, em 1947, em macacos, na floresta Zika, localizada:

- a) Japão
- b) Índia
- c) China
- d) África

26. Qual o estado brasileiro que está apresentando o maior número de casos de microcefalia?

- a) Ceará
- b) São Paulo
- c) Pernambuco
- d) Rio de Janeiro

27. A Polícia Federal prendeu em novembro de 2015, um senador (PT-MS), líder do governo no Senado. Segundo investigadores, o senador foi preso por estar atrapalhando apurações da Operação Lava Jato. O texto refere-se a:

- a) Delcídio do Amaral
 - b) José Dirceu
 - c) Aluizio Mercadante
 - d) Nestor Araújo
- c) Aloizio Mercadante
 - d) Celso de Mello

28. Filme brasileiro, adaptado de uma novela, teve recorde de bilheteria, com estreia em pelo menos 1000 salas do circuito nacional . A pré-venda de ingressos vendeu 2 milhões de ingressos na pré-venda e bateu a 'A Saga Crepúsculo: Amanhecer Parte 2', que somou 645 mil ingressos. O texto refere-se:

- a) Os Dez Mandamentos
- b) O menino maluquinho II
- c) Pagador de Promessas
- d) Lula, o filho do Brasil

29. Segundo a Lei Orgânica do Município de Aparecida, o Município comemorará, anualmente, a Semana da Emancipação Político-Administrativa, no período:

- a) de 10 à 17 de dezembro..
- b) de 01 a 08 de novembro
- c) de 15 a 22 de março
- d) de 18 a 25 de setembro

30. Juiz Federal responsável pela Operação Lava-Jato:

- a) Joaquim Levy
- b) Sergio Moro

Conhecimentos Específicos

31. Estão isentos da taxa de licença para o exercício de comércio ambulante:

- I- Os portadores de deficiências físicas.
- II- Os vendedores de livros, jornais e revista.
- III- Os engraxates.
- IV- Os desempregados com baixa renda comprovada e arrimo de família.

São corretas:

- a) I e II
- b) II e III
- c) I, II e III
- d) I, II, III e IV

32. Assinale a alternativa incorreta:

- a) Qualquer pessoa que queira exercer o comércio ambulante, eventual ou não, poderá fazê-lo mediante previa licença ou alvará de comércio ambulante.
- b) Considera-se ambulante o exercício individual, com estabelecimento ou instalações fixas, com características não sedentárias, em locais autorizados pela prefeitura.
- c) O contribuinte da taxa é a pessoa física que exerce a atividade de comércio ambulante.
- d) O exercício do comércio ambulante é estabelecido por preço público, de acordo com as características da atividade.

33. Complete: O dia do vencimento da licença, do ambulante, será dia _____ de cada mês, com exceção do mês de dezembro.

- a) Dez
- b) Quinze
- c) Vinte e Cinco
- d) Trinta

34. A licença para o exercício do comércio ambulante, poderá ser cassada e determinada a proibição do seu exercício:

- a) A qualquer tempo
- b) Desde que deixarem de existir as condições que legitimaram a sua concessão
- c) O contribuinte deixar de regularizar suas atividades mesmo após a aplicação de penalidades cabíveis.
- d) Todas as alternativas estão corretas

35. Assinale a alternativa correta:

- a) O ambulante em débito terá sua licença suspensa até o pagamento do débito, se não o fizer, dentro de 15 dias, após o último vencimento, terá sua licença cassada.
- b) O ambulante em débito terá sua licença suspensa até o pagamento do débito, se não o fizer, dentro de 30 dias, após o último vencimento, terá sua licença cassada
- c) O ambulante em débito terá sua licença suspensa até o pagamento do débito, se não o fizer, dentro de 20 dias, após o último vencimento, terá sua licença cassada.
- d) O ambulante em débito terá sua licença suspensa até o pagamento do débito, se não o fizer, dentro de 05 dias, após o último vencimento, terá sua licença cassada.

36. O fiscal ambulante quando na apreensão das mercadorias. Deverá:

- a) Lavrar o auto de notificação
- b) Preencher a relação de todo material apreendido, item a item.
- c) Comunicar o supervisor para vir fazer a apreensão.
- d) As alternativas a e b estão corretas.

37-As mercadorias apreendidas pela fiscalização só poderão liberadas, mediante do pagamento da multa, que não poderá ultrapassar:

- a) 240 UFIR
- b) 340 UFIR
- c) 320 UFIR
- d) 220 UFIR

38. A UFIR é, o valor de referencia determinado periodicamente para ser aplicado no município. Quem determina o valor da UFIR é:

- a) Lei Federal
- b) Lei Estadual
- c) Prefeito municipal
- d) Câmara de vereadores.

39. Qual o valor a serem cobrados, para autorização de vendas de roupas feitas, ferramentas, utilidades domesticas, calçados:

- a) 10,17 UFIR por mês
- b) 14,03 UFIR por mês
- c) 7,01 UFIR por mês
- d) 22,00 UFIR por mês

40. Exceto, as atividades rotativas, os demais ambulantes só poderão exercer suas atividades aos:

- a) Sábados
- b) Domingos
- c) Feriados
- d) Todas as alternativas acima estão corretas.